


САМОСТОЯТЕЛНА РАБОТА

Име: _____ Дата: _____



Изходяща диагностика по математика

Зад.1. Запиши с цифри числата: дванадесет, две, двадесет. (3т.)

--	--	--	--	--	--	--	--	--	--	--	--	--	--	--	--	--	--	--	--

Зад.2. Сравни и постави знаците >, =, < (4т.)


а) $9 \square 10$ б) $11 \square 1$ в) $13 \square 3$ г) $0 \square 1$

Зад.3. Сравнете (> = <). (4т.)


$20 - 4 \square 15$ $15 \square 7 + 9$

Зад.4. Пресметнете сборовете и разликите: (18т.)

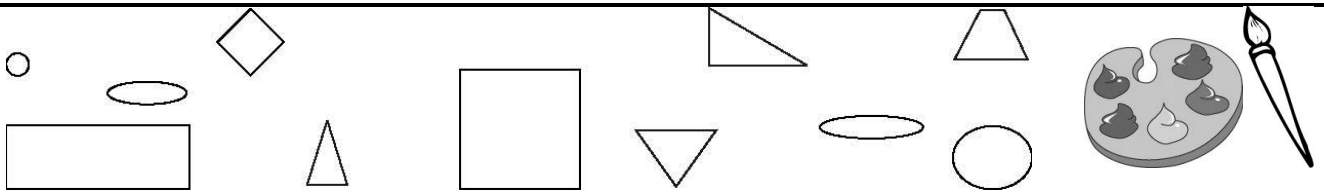
$4 + 5 = \underline{\quad}$	$5 + 8 = \underline{\quad}$	$18 - 17 = \underline{\quad}$
$3 + 7 = \underline{\quad}$	$2 + 0 = \underline{\quad}$	$20 - 18 = \underline{\quad}$
$10 + 6 = \underline{\quad}$	$9 - 8 = \underline{\quad}$	$12 - 3 = \underline{\quad}$
$17 + 2 = \underline{\quad}$	$10 - 7 = \underline{\quad}$	$16 - 9 = \underline{\quad}$
$4 + 16 = \underline{\quad}$	$17 - 6 = \underline{\quad}$	$20 - 0 = \underline{\quad}$
$9 + 6 = \underline{\quad}$	$14 - 4 = \underline{\quad}$	$15 - 15 = \underline{\quad}$



Зад.5. Измери дължината на отсечката и запиши: (1т.)



Зад.6. Оцвети в червено - квадратите, в синьо – кръговете, и в жълто – триъгълниците.(6т.)



Зад.7. Попълни. (4т.)

$12 = \square + 5;$

$20 - \square = 12$

Зад.8. Иво има 9 сини топчета и с 5 повече – бели топчета. Колко бели топчета има Иво? (3т.)

Решение:

--	--	--	--	--	--	--	--	--	--	--	--	--	--	--

Отг.

--	--

Зад.19. Разгледай, помисли и запиши следващото число. (3т.)


19, 15, 11, \square .

Скала за оценка:

39 – 46 т. (Отлична)
31 – 38 т. (Много добра)
23 – 30 т. (Добра)
15 – 22 т. (Задоволителна)
под 15 т. (Слаба)

Брой точки за верни отговори:

Оценка:



Проверил:

П.Манева

*Уважаеми родители,
Табличката ще Ви ориентира за мястото на Вашето дете в момента.*

Оценка	6	5	4	3	2
Брой уч-ци					

Родител:


6. Задраскай грешната буква и запиши думата за проверка./8т./

п	з	к	т
хля	ори	сня	слодоле
б	с	г	д

Скала за оценка:

- 28 – 33 т. (Отлична)
- 22 – 27 т. (Много добра)
- 16 – 21 т. (Добра)
- 10 – 15 т. (Задоволителна)
- под 10 т. (Слаба)

Брой точки за верни отговори:



Оценка:



Уважаеми родители,
Табличката ще Ви ориентира за мястото на Вашето дете в момента.

Проверил:

П.Манева

Оценка	6	5	4	3	2
Брой уч-ци					

Родител:

САМОСТОЯТЕЛНА РАБОТА

Име: _____ Дата: _____

Изходяща диагностика по роден край

1. Довърши изреченията с подходящи думи: /3т./

Името на нашата родина е _____ .

Ние живеем в град _____ .

Училището, в което учим, носи името на _____ .

2. Подчертай само членовете на семейството: /5т./

баба, дядо, майка, сестра, братовчеди, брат, баща, чичо, вуйчо, леля, аз

3. Свържи професиите със съответната картинка : /5т./

шофьор

учител


пожарникар

шивач

зъболекар



4. Свържи частите на растението. /5т./



листа

корен

плод

цвят

стъбло

5. Разпредели животните в таблицата според вида им: (6т.)

лисица, коза, кокошка, мечка, крава, вълк

ДОМАШНИ ЖИВОТНИ	ДИВИ ЖИВОТНИ

6. Свържи датите с празниците. /2т./

3 март

24 май

Ден на славянската писменост и българската просвета и култура


Национален празник на Република България

7.Оцвети българското знаме:/1т./

Скала за оценка:

- 19 – 22 т. (Отлична)
- 15 – 18 т. (Много добра)
- 11 – 14 т. (Добра)
- 7 – 10т. (Задоволителна)
- под 7 т. (Слаба)

Брой точки за верни отговори:



Оценка:



Уважаеми родители,
Табличката ще Ви ориентира за мястото на Вашето дете в момента.

Проверил:

П.Манева

Оценка	6	5	4	3	2
Брой уч-ци					


Родител:

Скала за оценка:

41 – 48 т. (Отлична)
33 – 40 т. (Много добра)
25 – 32 т. (Добра)
17 – 24 т. (Задоволителна)
под 17 т. (Слаба)

Брой точки за верни отговори:

Оценка:



Уважаеми родители,
Табличката ще Ви ориентира за мястото на Вашето дете в момента.

Оценка	6	5	4	3	2
Брой уч-ци					

Проверил:

Р. Тодорова

Родител:

Изходно ниво ЗИП БЕЛ

Име: _____ 1 клас Дата: _____

1. Диктовка:

Blank handwriting lines for dictation.

2. Свържи всяко изречение с модела му:

Иван и Стефан ритат топка.

_____ . _____

Мишо и Таня пишат.





_____ . _____

Мама и Соня правят торта.

_____ . _____

Момчетата и момичетата играят навън.

3. Направи звуков модел на думите:

			
□ □ □ □ □	□ □ □ □ □ □ □	□ □ □ □ □ □ □	□ □ □ □ □ □ □ □

4. Подреди думите в изречение:

Младен, барабан, на, подари, Боби

5. Прочети внимателно текста и отговори с цели изречения на въпросите.

Лястовица

Лястовицата е малка птичка. Живее в гнездо. Прави го под стрехите на къщите. Храни се с насекоми и червейчета. Много е трудолюбива и грижлива към малките си. Тя е предвестник на пролетта.

1. Каква птичка е лястовицата?

2. Къде живее?

3. Къде прави гнездото си?

4. С какво се храни?

Оценка:

Проверил:

Родител:

Текст за диктовка БЕЛ

Пролет

Дойде китна пролет. Грее топло слънце. Лалетата и нарцисите цъфтят. Весело пеят птички.

Йонка и Вальо са нетърпеливи. Очакват завръщането на щъркелите и лястовиците от юг.

Текст за диктовка ЗИП БЕЛ

В гората живееше палав Мечо. Той по цял ден се забавляваше. Играеше в храсталака. Къпеше се по гръб във водопада.

Порасна Мечо. Стана послушен. Майка му Мецана го записа в горското училище. Мечо беше много горд, че ще бъде ученик.

Критерии за оценяване:

Диктовка - 5 точки

1. Отделяне на изречения – 0,5 т.
2. Правопис на същ. собств. имена – 0,5
3. Слято писане - 0,5 т.
4. Замяна на букви – 0,5 т.
5. Пропускане на букви – 0,5 т.
6. Правопис на гласни - 0,5
7. Правопис на съгласни – 0,5
8. Правопис на йо, ъо – 0,5
9. Правопис на ю, я – 0,5 т.
10. Правопис на й, щ – 0,5 т.

Езикови задачи: – 20 т.

Четене с разбиране: - 4 т.

Скала за оценяване: Общ брой точки – 24

Отличен – 24, 23, 22, 21

Много добър – 20, 19, 18, 17

Добър - 16, 15, 14, 13

Среден - 12, 11, 10, 9

